

2022年度 第2回

# 社 会

(30分)

〈注 意〉

1. 開始のチャイムがなるまで、この冊子は開いてはいけません。
2. 問題は1ページから24ページに印刷されています。
3. 受験番号と氏名は解答用紙の定められたところに記入しなさい。
4. 解答はすべて解答用紙の定められたところに記入しなさい。

受 験 番 号		



I 次の文章を読み、あとの問いに答えなさい。

ここは中央大学附属中学校・高等学校前の古書店「小金井湧泉堂」。店主の静おじさんは近くに住む中附中1年生中太君のお母さんの伯父さんにあたります。今日も中太君は、お母さんに託された晩御飯を持って湧泉堂へやってきました。

中太：こんにちは、静おじさん。今夜の夕飯は、ちゃん焼きだよ。

静：おお、今日はごちそうだ。1) 大きいサケの切り身が入ると、野菜もたっぷりじゃの。

中太：お母さんが、2) 北海道の物産展でいろいろと買ってきたんだよ。



静：ほー、どうりで立派なサケじゃな。わしの子どもころは、塩ジャケか干したサケしか口にできなかった。干物のサケの絵を知っとるかな。

中太：干物のサケ？ ああ、教科書に載っていたやつかな？ 半身が切り取られて縄でぶら下がっている……。

静：そうそう、あれは高橋由一という3) 西洋の技法をいち早く取り入れた画家の絵で、サケの絵は彼の代表作じゃ。東京では昔はああいう干物ばかりでなあ。生のサケの切り身が買えるなんて、ここ50年くらいの話だ。でも、サケは4) 縄文時代から食べられておった。サケやマスが豊富なおかげで5) 東日本では縄文文化が栄えたという説があるくらいでの。アイヌの人々は「カムイチェプ」、神の魚と呼んでいたそうじゃ。

中太：それ知ってる！ 『ゴールデンカムイ』で読んだよ。

静：マンガ『ゴールデンカムイ』は、日露戦争のころの北海道や樺太が舞台じゃったな。北海道の開拓民とアイヌの人々の暮らしを丁寧に描いておった。アイヌの着るアットゥシは、樹皮から織られていて水に強く、江戸時代から商品としても人気じゃったそうじゃ。今は6) 伝統的工芸品に指定されておる。



中太：開拓はいつごろから始まるの？

静：江戸時代には7) 松前藩が渡島半島に置かれたが、北海道はずっと「蝦夷地」と呼ばれておった。8) 松前藩はアイヌとの交易で高い利益を上げてい

たんじゃ。9) ロシアからの船が<sup>しゅうぼつ</sup>出沒するようになって、伊能忠敬や10) ( ☆ )が北海道を調査し地図を作り始めておるが、彼らの仕事はアイヌの協力がなければ無理だったろう。本格的に本州から人が渡るのは、明治に開拓使が置かれてからじゃ。

中太：ふーん、北海道はアイヌの土地だったんだね。彼らは昔、東北地方にも住んでいたんでしょ。坂上田村麻呂が蝦夷の阿豆流<sup>あてりう</sup>と戦ったって習ったよ。

静：東北地方にもアイヌ語と関連する地名が多く残されている。はっきりとは言えんが、古代に蝦夷と呼ばれていた人たちは、アイヌと関連があるんじゃないろう。11) 田村麻呂伝説も東北各地に残っておる。

中太：田村麻呂は12) 征夷大將軍だったんだよね。

静：朝廷からは征伐<sup>せいばつ</sup>すべき相手とされてしまったが、蝦夷の人々は恵まれた自然の中で、自由に生活していただけではないのかなあ。「征夷」というのは一方的な言い方じゃ。

中太：そうか。蝦夷と呼ばれた人々からの見方も必要だね。

静：明治以後は、近代化の波の中で、ますますアイヌを遅れた文化<sup>おくれ</sup>と見下すようになってしまった。中太は「学術人類館事件」のことを知っておるかな。明治36年の内国勸業博覧会で、台湾や琉球、アイヌ、朝鮮などの人々を「人類館」に集めて、13) 展示品あつかいした事件じゃよ。

中太：えっ！ それって人間を展示したってこと？

静：当時、日本は西洋列強に認められようと必死じゃったからな。逆に西洋文明の外にいた人々は、遅れた、珍しい生き物<sup>めづらし</sup>とされてしまったんじゃ。

中太：ひどいな。いろんな人々の14) 多様性を認めることが必要だなんて、当たり前のことだけど。

静：今ならありえないことじゃが、当時、これをひどいと指摘<sup>してき</sup>した人は少なかったんじゃ。抗議<sup>こうぎ</sup>もあったが、展示は中止にならなかった。じゃが、気を付けないと、我々も異なる文化で生活している人々を、進んだ、遅れたといった価値観で見ってしまうかもしれん。

中太：うーん。今も気をつけなきゃいけないんだね。そんなことにならないよう視野を広げないと。

静：ほほう。これは頼<sup>たの</sup>もしい。しっかり勉強して、立派な大人になるんじゃぞ。

中太：はい！ また晩御飯を持ってくるね。

問1. 下線1)に関する問題です。サケにかかわる文として誤っているものを、次の①～④から1つ選びなさい。

- ①サケ、イワナ、ニジマスは名前が異なるが、同じサケ科の魚である。
- ②サケは一生の終わりに、海から川をさかのぼって子孫を残す。
- ③サケの卵であるイクラは、「魚の卵」を意味するロシア語からきている。
- ④日本で食べられているサケの半分以上は、タイからの輸入である。

問2. 下線2)に関する問題です。次の表は、北海道での<sup>しゅうかくりょう</sup>収穫量（単位トン）が全国1位の野菜について、3つの県の収穫量と比べたものです。（あ）（い）に入る県名として正しい組み合わせを、下の①～④から1つ選びなさい。

	ジャガイモ		ニンジン		ダイコン		カボチャ	
	順位	収穫量	順位	収穫量	順位	収穫量	順位	収穫量
北海道	1位	1,890,000	1位	194,700	1位	161,900	1位	87,800
(あ)	2位	95,000	8位	19,300	4位	93,900	2位	8,090
長崎県	3位	90,900	5位	31,100	8位	51,200	5位	5,520
(い)	5位	29,500	2位	93,600	2位	142,300	8位	3,790

「作物統計」（2019年、農林水産省）より作成

- ① (あ) 宮崎県                      (い) 埼玉県
- ② (あ) 鹿児島県                  (い) 千葉県
- ③ (あ) 熊本県                      (い) 群馬県
- ④ (あ) 福岡県                      (い) 栃木県

問3. 下線3)に関する問題です。明治時代には、音楽の世界でも西洋の技法を学び、多くの歌曲が作られました。次の歌詞で始まる歌曲について述べた文として正しいものを、下の①～④から1つ選びなさい。

はるこうろう えん  
春高樓の花の宴  
めぐるさかずきかげ  
めぐる盃影さして

- ①土井晩翠の作詞、瀧廉太郎の作曲である。
- ②北原白秋の作詞、團伊玖磨の作曲である。
- ③竹久夢二の作詞、古関裕而の作曲である。
- ④中原中也の作詞、中山晋平の作曲である。

問4. 下線4)に関する問題です。次の図は、今からおよそ6000～5000年前の貝塚遺跡の分布を、黒い点で現在の地図上に示したものです。この分布から読みとれる縄文時代の暮らしについて述べた文としてふさわしいものを、下の①～④から1つ選びなさい。



- ①大雨による洪水被害の多い低地を避けて、台地上に住んでいた。
- ②集落同士の争いが多かったため、丘の上に砦を築き住んでいた。
- ③森林を焼きはらって、畑を広げることができる丘陵地帯に住んでいた。
- ④海からの食料を得やすい海岸に沿って住んでいた。

問5. 下線5)に関する問題です。昨年、「北海道・北東北の縄文遺跡群」が世界遺産に登録されました。まだ正式に世界遺産に登録されていない場所として正しいものを、次の①～④から1つ選びなさい。

- ①紀伊山地の霊場と参詣道
- ②石見銀山遺跡とその文化的景観
- ③飛鳥・藤原の宮都とその関連資産群
- ④「神宿る島」宗像・沖ノ島と関連遺産群

問6. 下線6)に関する問題です。「伝統的工芸品」とは、経済産業省が地域の産業を振興<sup>しんこう</sup>するために指定したものです。伝統的工芸品に関する次のイ)ロ)の問いに答えなさい。

イ) 経済産業省が指定する伝統的工芸品を示すマークとして正しいものを、次の①～④から1つ選びなさい。なお、マークは白黒で印刷されています。

①



②



③



④





ロ) 次の写真は、伝統的工芸品のひとつである南部鉄器です。南部鉄器で有名な県について述べた文として正しいものを、下の①～④から1つ選びなさい。



- ①北上川が北から南に流れ、太平洋に面してリアス海岸が広がっている。
- ②糸魚川静岡構造線が南北を貫き、県の中央には諏訪湖がある。
- ③北部に鈴鹿山脈、南部に紀伊山地があり、東は伊勢湾に面している。
- ④島の数では日本最多であり、島原半島には活火山の雲仙普賢岳がある。

問7. 下線7)に関する問題です。松前藩に由来する食べ物に松前漬けがあります。  
松前漬けの写真としてふさわしいものを、次の①～④から1つ選びなさい。

①



②



③



④



問8. 下線8)に関する問題です。松前藩はアイヌとの交易で入手した昆布を北前船の商人に売り、大きな利益を上げていました。江戸時代の商業について述べた文として誤っているものを、次の①～④から1つ選びなさい。


- ①「天下の台所」と呼ばれた大坂には、大名の蔵屋敷が立ちならんだ。
- ②金・銀・銅（銭）の貨幣が発行され、それを交換する両替商が発達した。
- ③三井高利は呉服を商い、「現金掛け値なし」の商法で財をなした。
- ④出島のイギリスやオランダの商館には、全国から商人が集まった。

問9. 下線9)に関する問題です。現在のロシアの大統領の写真として正しいものを、次の①～④から1つ選びなさい。

①



②



③



④




問10. 下線10)に関する問題です。空らん( ☆ )には、千島列島や樺太の調査を行った人物が入ります。当てはまる名前を漢字4字で答えなさい。

問 11. 下線 11) に関する問題です。青森のねぶた祭りではかつて、田村麻呂伝説にちなんで、ねぶたの<sup>さいゆうしゅうしょう</sup>最優秀賞を「田村<sup>たむらまろ</sup>磨賞」と呼んでいました。しかし田村麻呂の評価をめぐる議論が起こった結果、現在では「ねぶた大賞」と名前が変わっています。どのような議論が起こったと思いますか、あなたの考えを述べなさい。

問 12. 下線 12) に関する問題です。次の写真 (A) (B) の建物と、それともともかかわりの深い征夷大將軍 (ア) ~ (エ) の組み合わせとしてふさわしいものを、下の①~④から 1 つ選びなさい。

(A)



(B)



(ア) 足利義満

(イ) 足利義政

(ウ) 徳川吉宗

(エ) 徳川慶喜

① (A) - (ア)

② (B) - (イ)

③ (A) - (ウ)

④ (B) - (エ)

問 13. 下線 13) に関する問題です。人間を展示することは、現在からみると基本的人権に反する行為といえます。基本的人権について記した次の日本国憲法の条文を読み、空らん（ア）（イ）に入る言葉の組み合わせとして、正しいものを下の①～④から 1 つ選びなさい。

11 条：国民は、すべての基本的人権の享有を妨げられない。この憲法が国民に保障する基本的人権は、侵すことのできない（ア）権利として、現在及び将来の国民に与えられる。

12 条：この憲法が国民に保障する自由及び権利は、国民の（イ）によつて、これを保持しなければならない。又、国民は、これを濫用してはならないのであつて、常に公共の福祉のためにこれを利用する責任を負ふ。

- ①（ア）永久の      （イ）不断の努力
- ②（ア）神聖な      （イ）自主的奉仕
- ③（ア）神聖な      （イ）不断の努力
- ④（ア）永久の      （イ）自主的奉仕

問 14. 下線 14) に関する問題です。近年、企業でも「多様性」を尊重する働き方が少しずつ広がっています。「多様性」を意味する語として正しいものを次の①～④から 1 つ選びなさい。

- ①バリアフリー
- ②ワークシェアリング
- ③ダイバーシティ
- ④フェアトレード

## II 女性の歴史と現代の諸問題に関する次の文章を読み、以下の問いに答えなさい。

試験を終えて家に帰って、もし元気があったら、ためしに社会（歴史）の教科書を開いてみてください。

最後のページ近くに、執筆者の名前があります。それを見ると、男性のほうが多いことに気づくでしょう。歴史上の人物のうち女性より男性のほうに思い浮かびやすいとすれば、その理由の一つは、教科書の執筆者の多くが男性だからかもしれません。

ここで世界史をふりかえってみましょう。古代エジプトには女王クレオパトラ、1) 中国（唐）には楊貴妃、近代のイギリスにはスペイン海軍を破った女王エリザベス1世など、大きな影響力を持つ女性がいました。

20世紀後半のアメリカで、2) 黒人の地位を改善する運動を率いたのはキング牧師ですが、運動が広がるきっかけとなる抵抗を一人で行なったのは、ローザ・パークス（右写真）という女性でした。



「日本史の女性のことなら、もっと知ってるよ！」それでこそ将来の中附生。3) 「縄文のビーナス」や、邪馬台国を治めた卑弥呼が思い浮かぶでしょう。飛鳥時代には、推古天皇や持統天皇といった女帝がいました。4) 平安時代の文学は、女性を抜きに語れません。

鎌倉時代は、5) 北条政子が政治的リーダーシップを発揮しました。安土・桃山時代の細川ガラシャの悲劇や、女歌舞伎の流行の基礎をつくった6) 出雲阿国も忘れられません。「お歯黒」など、近世までつづいた女性の風習も学んだでしょう。

7) 明治時代以後は、8) 女性の地位を向上させる運動や、女性による創作活動にスポットライトが当たりました。その展開は、とても彩りゆたかなものでした。

このように、女性もまた男性と同じく、懸命に生きてきました。けれど、私たちが女性の活躍にふれるチャンスはやはり少ない。この文章中と各問題中に、小・中学校の社会（歴史）で学ぶ女性の名前はほとんど出ています。それだけ、教科書でふれられる女性の数が少ないということです。

では、現代日本と世界の女性はどうでしょう。日本では、女性の9) 国会議員の数は圧倒的に少数です。10) 昨年（あつど）の東京オリンピックの前には、関係者による女性差別発言もくりかえされました。日本人だけでなく、世界の多くの人びともそうした事態に失望したのでした。

世界に目を向ければ、11) 女性の活躍はまことにめざましい。1990年代に国連難民高等弁務官事務所のリーダーとなった緒方貞子さんは、国際派の先駆者の一人です。生前、彼女は次のようにのべました。日本が積極的な平和主義を求めるなら、人道上の国際問題から目をそむけるべきではない――。

緒方さんもよく自覚していたとおり、日本国内の問題が国際的な問題と密接にかかわる点を忘れるわけにはいきません。たとえば、外国人技能実習生への12) 人権侵害は、多数報告されています。コロナ禍で、日本政府から十分サポートを受けられなかったベトナム人技能実習生たちは、13) ベトナム出身の女性僧侶、ティック・タム・チー（右写真）のいる大恩寺に助けを求めました。



ベトナム人のことは、ベトナム人が助ければいい。彼・彼女らを働き手として招いた日本人がこうした冷たい態度をとれば、国際社会での信用を確実に失います。

14) 「3. 11」から10年以上経った今、女性たちが震災後の避難所生活で味わった深刻な苦しみが、少しずつ明かされるようになりました。世相が荒れるとき、社会的地位が定まらない人ほど苦しみやすいことははっきりしています。

過去の傷をかかえてこの世を生きる女性たち。技能実習生。コロナ感染を恐れる世間に差別されたエッセンシャルワーカーたち。そして、15) 政治や社会の混乱がつづく国々で苦しむ人びと――苦しみの涙の色は、みんないっしょです。国の内と外、あるいは男女間で、ちがいはありません。

弱き者に手が差しのべられない社会だとすれば、それはとてもさびしい。では、「人の道」をまっとうする社会を築くには、どうすればよいのでしょうか。はっきりとした答えは、まだ出ていません。

あなたといっしょに社会をデザインしなおすこと。希望の聖火を引き継いでゆくこと。教室で、あなたとみんなの未来を織りなせることを、楽しみにしています。

問1. 下線1)に関する問題です。中国へ遣唐使が送られた時代の出来事としてふさわしくないものを、次の①～④から1つ選びなさい。

- ①聖武天皇のもと、<sup>るしやなぶつ</sup>盧舎那仏（大仏）をまつる東大寺が建てられた。
- ②墾田永年私財法により、みずから開墾した土地の私有が認められた。
- ③何度も航海に失敗した鑑真が、ついに日本へ渡来した。
- ④仏教や儒教の教えのもと、十七条の憲法が制定された。

問2. 下線2)に関する問題です。<sup>こんにち</sup>今日もなお、アメリカの黒人差別は十分に解消されていません。このため、近年、「黒人の命は大切だ」をスローガンとする社会運動がつづいています。このスローガンを略した言葉をアルファベット (大文字) 3字で答えなさい。



問3. 下線3)に関する問題です。長野県茅野市まので出土したこの土偶の写真としてふさわしいものを、次の①～④から1つ選びなさい。

①



②



③



④



問4. 下線4)に関する問題です。次の文章は、平安時代の文学について説明したものです。空らん(ア)～(ウ)に入る言葉の組み合わせとして、正しいものを下の①～④から1つ選びなさい。

平安時代には、貴族もよく歌を詠よみました。権力の絶頂にあった藤原道長による、「この世をばわが世とぞ思ふ(ア)の欠けたることもなしと思へば」の歌は特に有名です。

また、女性も文学史に名を残しています。たとえば、近代から今日まで多くの言語にほんやく翻訳されてきた紫式部の『源氏物語』は、架空の人物である(イ)の生き方をえが描きました。

さらに、紀貫之の『土佐日記』は独特な作品として知られます。「(ウ)もすなる日記といふものを女もしてみむとすのなり」の一節が有名ですね。『時をかける少女』や『君の名は。』といった映画の源流の一つは、平安文学にあると言えるかもしれません。

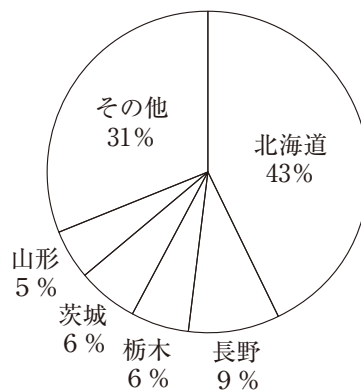
- |           |          |         |
|-----------|----------|---------|
| ①(ア) 望月   | (イ) 清和源氏 | (ウ) 男   |
| ②(ア) さかずき | (イ) 光源氏  | (ウ) みかど |
| ③(ア) 望月   | (イ) 光源氏  | (ウ) 男   |
| ④(ア) さかずき | (イ) 清和源氏 | (ウ) みかど |

問5. 下線5)に関する問題です。北条政子が活躍した時期には、幕府により六波羅探題が設置されました。設置のきっかけとなった出来事としてふさわしいものを、次の①～④から1つ選びなさい。

- ①源頼朝の死んだあと、北条時政が幕府の初代執権となった。
- ②執権の北条義時のもとで、幕府軍が後鳥羽上皇の軍に勝利した。
- ③執権の北条泰時のもとで、御成敗式目が制定された。
- ④執権の北条時宗のもとで、御家人たちが元の襲来しゅうらいを迎えうった。

問6. 下線6)に関する問題です。出雲阿国の出身地といわれる出雲地方は、ある食べ物が名物です。次の文章はその名物の原料となる植物の説明で、グラフはその原料の都道府県別収穫量(2020年)です。この食べ物の名前をひらがなで答えなさい。

夏から秋にかけて、白色やピンク色の小さな花が、鈴がつらなるような形で咲きます。その実は三角すいの形をしていて、乾くと黒っぽくなります。山間部でも栽培しやすく、その実を使った食べ物が各地の名物として親しまれてきました。



農林水産省 作況調査(令和2年)より作成

問7. 下線7)に関する問題です。次の明治時代の地図は、日本初の鉄道が開業したさい、海上に線路を敷くために築かれた高輪築堤の跡地周辺のもので、<sup>たかなわちくたい あとち</sup>高輪築堤の跡地周辺のもので、明治時代と現在(次のページ)を比べてわかることとして、誤っているものを①～④から1つ選びなさい(両地図は同じ範囲を表し、縮尺を調整しています)。



2万分の1迅速図「品川驛」(明治24年発行)



2万5千分の1電子地形図（令和3年10月調製）

- ①現在のJ R品川駅は、かつての海（干潟）の上に位置している。
- ②現在の品川ふ頭には、かつての台場の跡地を利用した部分がある。
- ③南・北品川宿を貫く東海道は、現在、国道357号線となっている。
- ④地図中のA地点の標高は、B地点の標高よりも高い。

問8. 下線8)に関する問題です。次の表は、近現代の女性たちの活躍をまとめたものです。与謝野晶子が「君死にたまふことなかれ」という詩をつくった時期として正しいものを、下の①～④から1つ選びなさい。

A 津田梅子が、6歳の留学生として岩倉使節団に同行した。

↓

B 樋口一葉が、日清戦争に前後する時期に作家として活動した。

↓

C 平塚らいてうを中心に、雑誌『青鞥』が創刊された。

↓

D 市川房枝が、参議院議員としての活動をはじめた。

- ①AとBの間                      ②BとCの間  
③CとDの間                      ④Dのあと

問9. 下線9)に関する問題です。次の表は、日本の国会についてまとめたものです。空らん(ア)～(ウ)にあてはまる数字として用いられないものを、下の①～④から1つ選びなさい。

○国の唯一の立法機関である国会のうち、参議院の議員の任期は(ア)年である。

○通常国会は毎年1回、1月中に開かれる。臨時国会は内閣が必要と認めたとき、あるいは衆・参どちらかの議院の総議員の(イ)分の1以上の要求があったとき開かれることになっている。

○衆議院が内閣の不信任決議案を可決するか、信任決議案を否決した場合、内閣は総辞職するか、(ウ)日以内に衆議院を解散して総選挙を行なわなければならない。

- ①4                      ②6                      ③8                      ④10

問 10. 下線 10) に関する問題です。次の写真は、昨年の東京オリンピック・パラリンピック<sup>かいさい</sup>開催にあたり、重要な職務に当たった女性たちです。彼女たちのそこでの役職としてふさわしくないものを、下の①～④から1つ選びなさい。



- ①東京オリンピック・パラリンピック競技大会組織委員会会長
- ②日本オリンピック委員会（JOC）会長
- ③東京オリンピック・パラリンピック競技大会担当大臣
- ④東京都知事

問 11. 下線 11) に関する問題です。右の写真は、ある国の政界を引退した人物です。彼女の業績として正しいものを、次の①～④から1つ選びなさい。

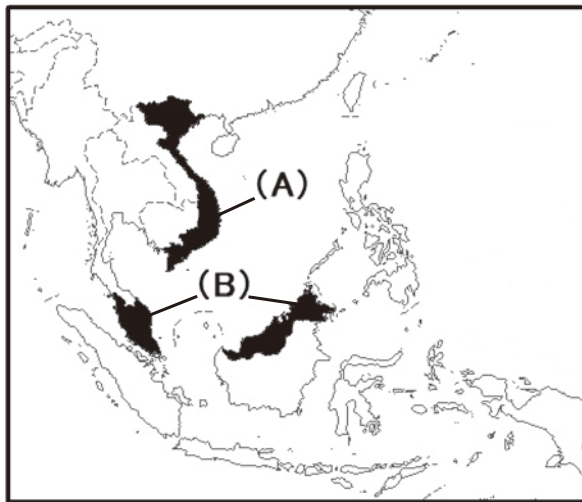


- ①ドイツの首相として、EUで中心的役割を果たし、中東からの難民を積極的に国内へ受け入れた。
- ②アメリカの政治家として、<sup>かんきょう</sup>環境対策と<sup>かつか</sup>貧困対策を両立させる「グリーン・ニューディール」を掲げた。
- ③ニュージーランドの首相として、新型コロナ対策を指揮して感染者数を少数に<sup>おさ</sup>抑えた。
- ④フランスの政治家として、移民の受け入れに強く反対しつつ、国民の福祉を<sup>じゅうじつ</sup>充実させる政策を掲げた。

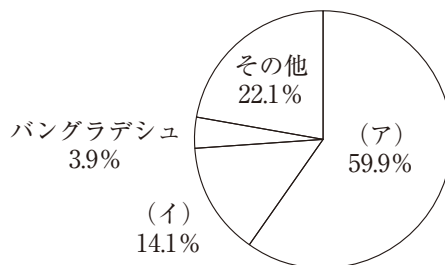
問12. 下線12)に関する問題です。日本が批准(加入)している人権条約として誤っているものを、次の①～④から1つ選びなさい。

- ①人種差別撤廃条約                      ②女子差別撤廃条約
- ③子どもの権利条約                      ④死刑廃止条約

問13. 下線13)に関する問題です。東南アジアの地図と、日本が衣類を輸入する国の割合を示したグラフを見て、ベトナムにあてはまる組み合わせとして正しいものを、下の①～④から1つ選びなさい。



衣類と付属品の輸入先 (2018年／総額3兆2058億円)



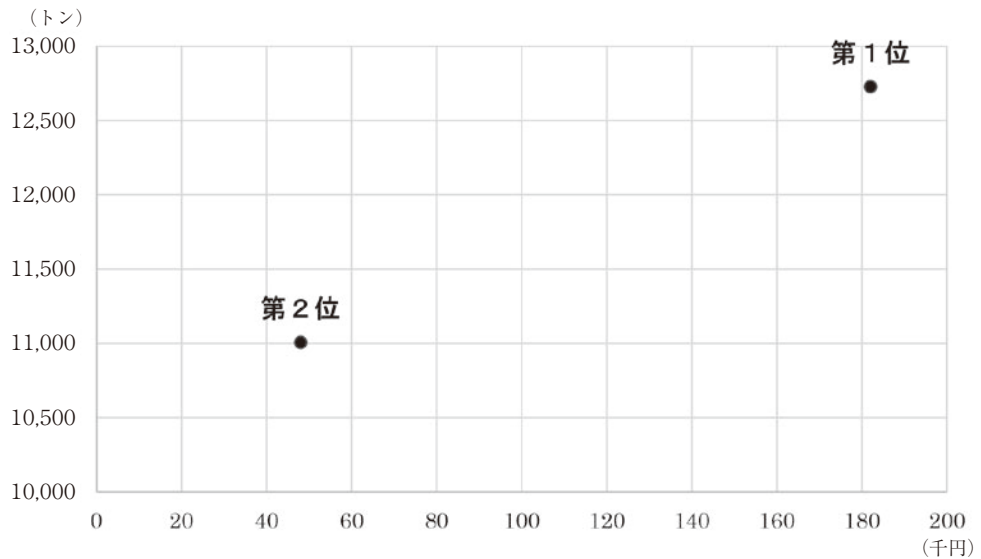
日本繊維輸入組合のホームページをもとに作成

- ① (A) と (ア)                      ② (A) と (イ)
- ③ (B) と (ア)                      ④ (B) と (イ)



問 14. 下線 14) に関する問題です。宮城県女川町は、「3.11」で大きな被害を受けた地域のひとつです。次のグラフは、女川港において水揚げ高が大きい上位 2 魚種と、その平均単価を表したものです。上位 2 魚種の組み合わせとしてふさわしいものを、下の①～④から 1 つ選びなさい。

上位 2 魚種の水揚げ高と平均単価 (2014 ～ 2020 年)



備考：平均単価は水揚げ金額 (千円) ÷ 水揚げ高 (トン)  
宮城県ホームページ「県内産地魚市場水揚げ概要」より作成

	第 1 位	第 2 位
①	まいわし	まだい
②	まいわし	さんま
③	さんま	まいわし
④	さんま	まだい

問 15. 下線 15) に関する問題です。近年のアジア情勢の説明として誤っているものを、次の①～④から 1 つ選びなさい。

- ①アフガニスタンではイスラム教の教えをもとに活動する武装組織、アルカイダが政治の実権をにぎった。
- ②ミャンマーでは軍事クーデタが起き、行政の中心的役割を果たしていたアウン・サン・スー・チーが捕えられた。
- ③香港では民主化を求める活動家たちが次々に逮捕され、中国政府に批判的な新聞が廃刊に追いこまれた。
- ④フィリピンでは大統領の強引な政治が問題とされ、それを粘り強く批判する女性記者が昨年のノーベル平和賞を受賞した。

問題は以上です。



