

2022年度 第1回

社 会

(30分)

〈注 意〉

1. 開始のチャイムがなるまで、この冊子を開いてはいけません。
2. 問題は1ページから21ページに印刷されています。
3. 受験番号と氏名は解答用紙の定められたところに記入しなさい。
4. 解答はすべて解答用紙の定められたところに記入しなさい。

| 受 験 番 号 | | |
|---------|--|--|
| | | |

I 三鷹さんと武蔵くんは、高層建築の歴史について話し合っています。二人の会話を読んで、以下の問いに答えなさい。

武蔵くん：このあいだ、大阪の「あべのハルカス」にのぼって来たよ。1) 生駒山系から大阪湾までをぐるりと一望できる景色は最高だったなあ。

三鷹さん：あべのハルカスといえば、高さが日本一のビルね。最上階は地上300メートルだから、東京タワーの特別展望台よりも高いのよ。

武蔵くん：すごい高さで、ひざがガクガクしちゃったよ。高いタワーやビルは都市のシンボルだね。2) 1958年当時、エッフェル塔を抜いて世界一高い電波塔となった東京タワーは333m、2012年に完成したスカイツリーは634m。どちらもTOKYOを象徴する建物だよ。

三鷹さん：世界一の高さのビルは知っているかしら？ ドバイのブルジュ・ハリファは828mで世界第1位。3) ほかに中東諸国では、クウェートやサウジアラビアで1000mを超えるビルの建設が計画されているそうよ。

武蔵くん：1キロメートルを超える摩天楼だなんて、もはや4) 「バベルの塔」の伝説だね。世界一に向けて、プライドをかけた高さ競争だ。

三鷹さん：日本の歴史をふり返っても、プライドをかけた争いというのは当てはまりそうね。5) 古墳時代の前方後円墳だって、大きな権力を見せつけるシンボルだったはずよ。

武蔵くん：なるほど。歴史の授業でならった高層建築といえば、ぼくはやっぱり6) 法隆寺の五重塔が思いうかぶなあ。りっぱな建造物をつくるには、政治的にも軍事的にも大きな力が必要だね。7) 国中からたくさんの人を集めて働かせたり、全国各地から材料を集めたりしなきゃいけないもの。



《歴史的建築物と時代の変わり目》 作成：三鷹さん

平安末期～鎌倉時代

白河天皇が法勝寺を建てる。

鎌倉～室町時代

足利義満が鹿苑寺金閣を建てる。


戦国～安土桃山時代

織田信長が安土城を、豊臣秀吉が聚楽第・方広寺を築く。

三鷹さん：私が作った8) 歴史的建築物の年表を見てくれる？ 歴史研究者のなかには、9) とくに時代の変わり目に、大きくて高い、豪華な建物が建てられることが多いと主張している人たちもいるのよ。

武蔵くん：ふむ。興味深い年表だね。

三鷹さん：それから「高さ」が意味を持つのは建物だけじゃないのも、注目してみたいポイントよ。右の絵は、10) 幕末に外国の使節団が幕府の役人と交渉をしている様子なんだけど、ちょっと面白いことに気づかない？



武蔵くん：うーん、イスに座っている外国人と、畳の上に正座している日本の役人たちがいるね。もしかして、ちょっと畳が高すぎる……かなあ？

三鷹さん：ピンポン！ この絵は、11) 「椅子の文化」と「畳の文化」という二つの異文化が衝突したシーンなの。その場の雰囲気がリアルに伝わってこない？ イスに座っている外国人の視線よりも高い位置に視線がくるように、幕府の役人は畳を何枚も重ねて座っているのよ。

武蔵くん：なるほど。12) 「目上の人」というくらいだから、高さは何より大事だったんだね。幕府の人たちも頭をひねって工夫したんだろうなあ。ビルやタワーもそうだけれど、「高さ」は最大のアピールになるんだね。

三鷹さん：年表を作りながら気づいたことがあるの。こういう視点で歴史を振り返ると、たとえば織田信長が比叡山を焼き討ちした有名な事件だって、お寺が焼き払われることに象徴的な意味があったんじゃないかって思えてきたの。武蔵くんはどう考えるかな？

武蔵くん：さすがは三鷹さん、するどい見方だね。13) 建物の高さにはシンボル性があるから、そのシンボルが失われたときには、まわりにおよぶ衝撃もいちだんと大きくなる——とっても納得できる考え方だと思うよ。歴史って、面白いね。

問1. 下線1)に関する問題です。「あべのハルカス」の展望台から見える景色について記した文として、誤っているものを次の①～④から1つ選びなさい。

- ①東側には、奈良県と大阪府の境となっている生駒山地が見えました。
- ②西側には、兵庫県神戸市と淡路島をむすぶ明石海峡大橋が見えました。
- ③南側には、仁徳天皇の墓とも伝えられる大仙古墳が見えました。
- ④北側には、小豆島と徳島県鳴門市をむすぶ鳴門海峡大橋が見えました。

問2. 下線2)に関する問題です。完成当時、戦後復興のシンボルとなった東京タワーですが、地上150メートルを超える部分の鉄骨の材料には、朝鮮戦争で使われたアメリカ軍の戦車が再利用されたと言われています。

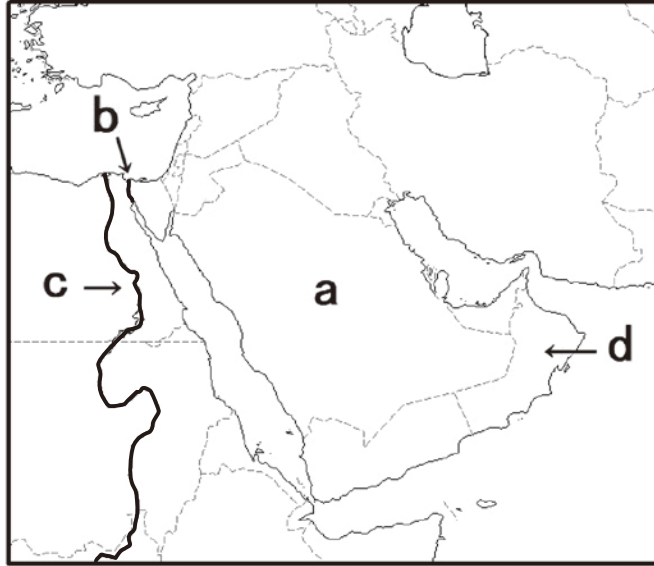
朝鮮戦争について述べた文として、誤っているものを次の①～④から1つ選びなさい。



- ①朝鮮戦争の背景には、資本主義国のアメリカ合衆国と社会主義国のソビエト連邦が対立して生じた「冷戦」とよばれる国際情勢があった。
- ②朝鮮戦争が起きたことで、物資の輸出が増えた日本経済は、「朝鮮特需」とよばれる好景気によって回復のきっかけをつかんだ。
- ③朝鮮戦争の結果として、北緯38度線付近を境に、南側の大韓民国と北側の朝鮮民主主義人民共和国が分断される状況が固まった。
- ④朝鮮戦争が起きたことで、「陸海空軍その他の戦力は、これを保持しない」とする日本国憲法9条が修正され、保安隊が結成された。

問3. 下線3)に関する問題です。次のイ)ロ)の問いに答えなさい。

イ) 超高層ビルが競うように建設されている中東地域について述べた文として正しいものを、次の地図をふまえて、下の①～④から1つ選びなさい。



- ① aの国はサウジアラビアである。地中海とペルシア湾^{わん}の両方に面しており、国民の多くは熱心なヒンズー教徒である。
- ② bはスエズ運河である。地中海と紅海を結んでおり、2021年には巨大なコンテナ船が座礁し、世界の物流に大きな影響^{えいきょう}がおよんだ。
- ③ cはアマゾン川である。エジプトを南北に流れ、流域には古代の王朝によって作られた巨大なピラミッドの遺跡^{いせき}がある。
- ④ dの国はアラブ首長国連邦^{れんぽう}である。日本のおもな石油輸入相手国のひとつであり、国民の多くはペルシア語を話している。

ロ) 今年、サッカーのワールドカップが行われるカタールでは、2001年に首都のドーハで、貿易自由化^{とじょうこく}や途上国の開発をめぐって、ある国際会議が開かれました。この会議を主催^{しゅさい}した国際機関として正しいものを、次の①～④から1つ選びなさい。

- ①GATT
- ②WHO
- ③WTO
- ④UNCTAD

問4. 下線4)に関する問題です。「バベルの塔」の伝説とは、天に届くほどの高い塔を建てようとした人々の物語です。この物語が記されている書物とその説明としてふさわしいものを、次の①～④から1つ選びなさい。

- ①『旧約聖書』：ユダヤ教の聖典であり、「天地創造」「十戒」^{じっかい}「ノアの箱舟」^{はこぶね}などの物語が収められている。
- ②『イソップ物語』：古代ローマの物語集であり、「すっぱいブドウ」や「アリとキリギリス」の物語でも知られる。
- ③『ヴェニスの商人』：約400年前のイギリスの戯曲^{ぎきょく}で、『ハムレット』の作者であるシェイクスピアによって書かれた。
- ④『グリム童話』：約200年前のドイツで成立した物語集で、各地の昔話を収集したグリム兄弟によって編さんされた。

問5. 下線5)に関する問題です。日本列島で巨大な古墳が多く作られた頃の様子を伝える出土品・遺跡について述べた文(あ)・(い)の内容について、正・誤の組み合わせとしてふさわしいものを、下の①～④から1つ選びなさい。

(あ) 埼玉県の稲荷山古墳から出土した鉄剣には「ワカタケル」の名が記されている。このことは、大和政権の大王の力が地方の豪族にもおよんでいたことを示す。

(い) 当時、百済という国があった場所には、好太王の石碑が残されている。そこには、倭が高句麗や新羅と争ったと記されている。


- ① (あ) 正 (い) 正 ② (あ) 正 (い) 誤
- ③ (あ) 誤 (い) 正 ④ (あ) 誤 (い) 誤

問6. 下線6)に関する問題です。法隆寺は日本を代表する仏教建築であり、世界最古の木造建築と言われます。次のイ)ロ)の問いに答えなさい。

イ) 日本への仏教伝来および仏教寺院について記した文として、正しいものを次の①～④から1つ選びなさい。

- ①『古事記』と『日本書紀』のどちらの歴史書にも、隋の皇帝であった聖明王から日本に仏教が伝えられたことが記されている。
- ②仏教の受け入れにあたっては、賛成派であった物部氏と反対派であった蘇我氏との間ではげしい対立が生じた。
- ③日本最古の寺院のひとつである飛鳥寺の本尊^{ほんぞん}は、渡来人であった鞍作鳥によって製作された飛鳥大仏である。
- ④推古天皇の摂政であった聖徳太子は、みずからが天皇の位につくと、仏教中心の政治を進めるために四天王寺を建立した。

ロ) 次の円グラフは、2019年の「丸太の生産量」(単位千 m^3)を樹種別の割合で示したものです。このうち(☆)には、法隆寺のおもな建築木材として使用されている針葉樹が入ります。その名前を答えなさい(ひらがなでかまいません)。



出典：林野庁「木材需給表」(2019)

問7. 下線7)に関する問題です。近鉄奈良駅前には、東大寺の大仏建立に力を尽くした僧の銅像があります(右の写真)。朝廷は民衆からの広い支持を集めるため、この人物を大僧正だいそうじょうに任命し、事業をとりしきらせました。この僧の名前を漢字で記しなさい。



問8. 下線8)に関する問題です。次の写真(あ)～(え)は、東大寺南大門、中尊寺金色堂、慈照寺銀閣、平等院鳳凰堂のいずれかです。写真の建物が創られた年の古いものから並べた順番として正しいものを、下の①～④から1つ選びなさい。

(あ)



(い)



(う)



(え)



① (あ) ⇒ (う) ⇒ (え) ⇒ (い)

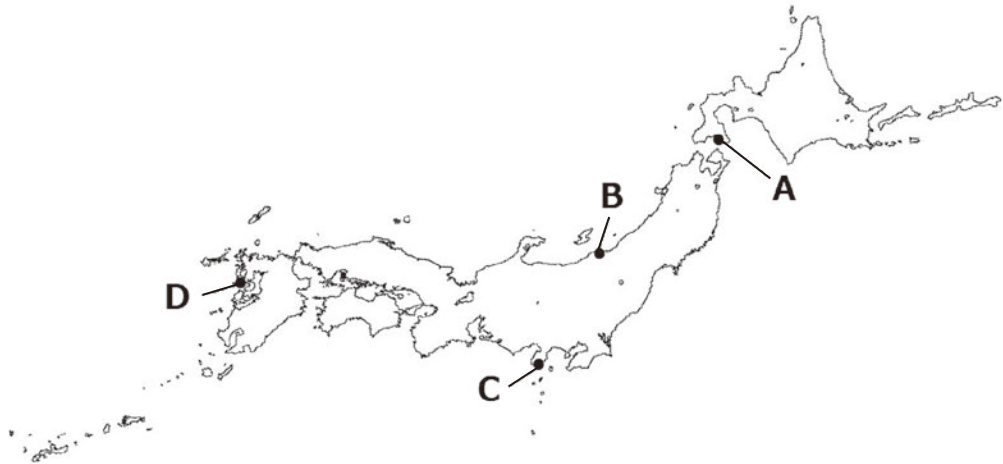
② (い) ⇒ (え) ⇒ (あ) ⇒ (う)

③ (う) ⇒ (あ) ⇒ (い) ⇒ (え)

④ (え) ⇒ (い) ⇒ (う) ⇒ (あ)

問9. 下線9)に関する問題です。このような見方が成り立つのはなぜだと考えられますか。あなた自身の考えをかんたんに説明しなさい。

問10. 下線10)に関する問題です。次の日本列島の地図を見て、外国船の来航、および江戸幕府と外国使節との交渉について記した文として誤っているものを、下の①～④から1つ選びなさい。



- ①ロシアの使節ラクスマンが、通商を求めて来航した場所は A である。
- ②日米修好通商条約によって、開国が認められた港のひとつは B である。
- ③日米和親条約によって、開国が認められた港のひとつは C である。
- ④ロシアの使節プチャーチンが、開国を求めて来航した場所は D である。

問 11. 下線 11) に関する問題です。右の写真は、外務卿であった井上馨が欧化政策のもと、建築家のコンドルに設計させた建物です。



次の年表を見て、この建物が建てられた時期として正しいものを下の①～④から1つ選びなさい。A～Dの出来事は時代順に並んでいます。

《年表》 A：ヨーロッパで造られた城を参考にして、五稜郭が建設された。
B：鉄の需要が高まるなかで、八幡製鉄所が設立された。
C：韓国併合をきっかけとして、朝鮮総督府が設置された。
D：関東大震災からの復興のために、同潤会アパートが建設された。

- ① A の前 ② A と B の間 ③ B と C の間 ④ C と D の間

問 12. 下線 12) に関する問題です。次の写真は、中央大学附属中学校・高等学校にある和室です。和室において着座するときには、もっとも目上の方が「A の空間」を背にする席に座るマナーがあります。この「A の空間」は何とよべられますか（ひらがなでかまいません）。

A の空間




問 13. 下線 13) に関する問題です。次のイ) ロ) の問いに答えなさい。

イ) 次の写真の高層ビルは、約 20 年前にテロ攻撃を受け、崩れさった「世界貿易センター」のもので、その日付とこのビルがあった都市について述べた文として正しいものを、地図をふまえて、下の①～④から 1 つ選びなさい。



- ①この事件は 3 月 11 日、地図中 (あ) のサンフランシスコで起きた。
- ②この事件は 3 月 11 日、地図中 (い) のニューヨークで起きた。
- ③この事件は 9 月 11 日、地図中 (う) のニューヨークで起きた。
- ④この事件は 9 月 11 日、地図中 (え) のサンフランシスコで起きた。

ロ) 右の写真の建物は、2019年に火災で焼失した首里城の^{せい}殿です。この正殿は、沖縄県の本土復帰20周年を記念する事業として復元されたものでした。この正殿が完成した年として、正しいものを次の①～④から1つ選びなさい。



- ① 1976年 ② 1984年
③ 1992年 ④ 2005年

Ⅱ さくらさんのもとに、山形県に住むおばあちゃんから手紙が届き、お父さんと二人で読んでいます。二人の会話を読んで、以下の問いに答えなさい。

お父さん：おばあちゃんから手紙が届いているよ。

さくら：えっ、この前1) ビデオ通話したばかりなのに！ 手紙なんて、急にどうしたんだろう。

さくらへ

暑い日が続いているけど、元気にしているかい？

山形は、今年も37℃を超えるような猛暑が続いて、農園での作業が大変です。今年も2) おいしい果物がたくさん育ちましたよ。さくらの家にも送るので、楽しみにしていてね。

3) 毎年、夏は一緒にお祭りに行ったね。たくさん食べて、たくさん歩いて……楽しい思い出がいっぱいあります。さくらが迷子になったこともありました。昔さくらのお父さんも、お祭りで迷子になったことがあってね。名前を呼んで探したのだけれど、4) お祭りの掛け声にかき消されてしまって、見つけるのが大変だったんだよ。手紙を書いていたら、そんな昔話を思い出しました。来年は、一緒にお祭りに行けるといいな。

今は一緒にできないことも多いけれど、さくらが大きくなった時に、この手紙を読み返して、今年の夏を思い出して欲しいです。来年の夏こそはみんなで過ごせるようにと、5) 願いを込めて、手紙を書きました。

今度会えるときまで、おたがい元気に過ごしましょう。

おばあちゃんより

さくら：おばあちゃん、果物送ってくれるって！ 暑いなか、農作業したって言うから、体調をくずしていないか心配だよ。

お父さん：山形の夏は、とくに暑いからね。最高気温の日本記録を2006年まで74年間も保持していたんだよ。かつて、夏にこの地を訪れた松尾芭蕉も、気温の高かった一日の終わりに、6) 「暑き日を海に入れたり (★)」と詠んだんだ。

さくら：夏はこんなに暑いのに、冬は雪が多く降るなんて、一年間にいろんな風景が楽しめるね。

お父さん：今度は冬に山形へ行こう。蔵王ぞうおうのスキー場では、樹氷が見られるぞ。

さくら：あ、それ、この前写真で見たよ。7) スキー場で歩き出す怪獣のように見えて、少し怖こわかったな。

お父さん：さくらは怖こわがりだなあ。お父さんにはゴジラに見えて、ワクワクしちゃうけどな。

さくら：私はお祭りで、おいしいものを食べ歩く方がいいな。おばあちゃんの手紙はに貼はってある切手にも、おいしそうな果物が……！

お父さん：これは「ふるさと切手」と言って、8) 地方自治法施行60周年を記念して、全国で発行されたんだ。各地の特産品や名所などを紹介しょうかいしているよ。ほら、こっちはさくらが生まれた年の切手だよ。



さくら：全国の名所や特産品だけじゃなくて、9) その年にあったできごとなども切手に描かれるんだね。

お父さん：お父さんにとって、さくらが生まれた年は何よりも特別だから、全部集めたぞ。

さくら：私が生まれた年に10) 裁判員制度が始まったんだ。切手を見れば、地域の特色や、時代が分かるね。

お父さん：切手って面白いんだ。さくらもいっしょに集めたくなかったかい？

さくら：う、うん……。おばあちゃんからの手紙うれ、嬉うれしかったなあ。会いたくなってきた。

お父さん：さくらも今の気持ちを手紙はに書いて、おばあちゃんに送ってみたら？

さくら：そうだね！ じゃあ、お父さんの持っている11) 今年発売された切手を貼はって、お返事を出すことにするよ。

問1. 下線1)に関する問題です。近年、ビデオ通話を利用したオンラインサービスなど、デジタル化が急速に進んでいます。政府のなかでも2021年9月、デジタル庁が新しく発足しました。現在の日本の省庁のうち、「庁」について説明した文としてふさわしいものを、次の①～④から1つ選びなさい。

- ①**気象庁** : 国土交通省に属し、天候や地震などの自然現象を観察・予測して防災情報を発信している。
- ②**復興庁** : 総務省に属し、東日本大震災の復興政策を担当していたが、震災から10年たった2021年3月に廃止された。
- ③**スポーツ庁** : 厚生労働省に属し、スポーツを通じた健康づくりや、オリンピックなどの国際大会の開催準備を担当している。
- ④**こども庁** : 文部科学省に属し、子育てや教育などの子どもに関する政策をまとめて担当している。

問2. 下線2)に関する問題です。山形県は、果物の一大生産地となっています。次のイ)ロ)の問題に答えなさい。

イ) 果樹園の地図記号として、正しいものを次の①～④から1つ選びなさい。



ロ) 次の表は、もも、ぶどう、りんご、おうとう（さくらんぼ）の収穫量^{しゅうかくりょう}について、全国5位までの都道府県を示したものです。「もも」にあてはまるものを、下の①～④から1つ選びなさい。

| | ① | ② | ③ | ④ |
|----|-----|-----|------|-----|
| 1位 | 山梨県 | 山形県 | 山梨県 | 青森県 |
| 2位 | 長野県 | 北海道 | 福島県 | 長野県 |
| 3位 | 山形県 | 山梨県 | 長野県 | 岩手県 |
| 4位 | 岡山県 | 青森県 | 山形県 | 山形県 |
| 5位 | 北海道 | 秋田県 | 和歌山県 | 秋田県 |

農林水産省「令和2年度作況調査（果樹）」より作成

問3. 下線3)に関する問題です。東北地方には、毎年夏に開催される有名なお祭り^{かいさい}がいくつもあります。次の写真のうち、山形県で行われる夏祭りとしてふさわしいものを、①～④から1つ選びなさい。

①



②



③



④



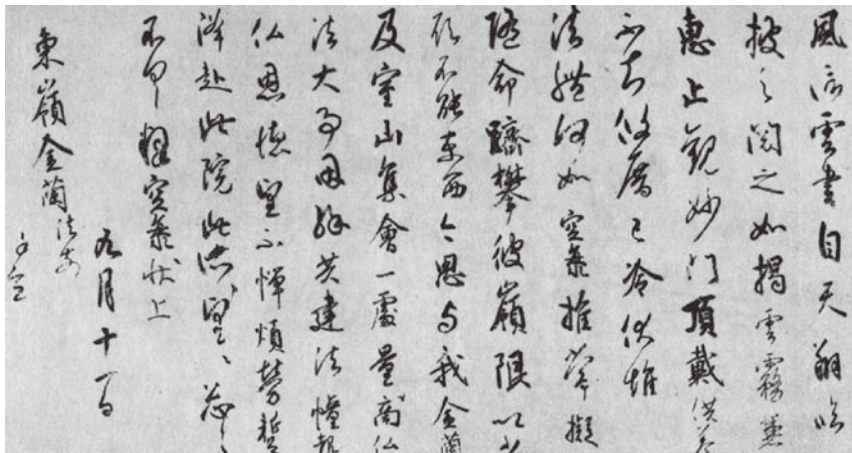
問4. 下線4)に関する問題です。祭りの掛け声のなかには、出陣しゅつじんの掛け声に由来するものがあります。東北地方で起きた戦いに関して述べた文(あ)・(い)の内容について、正・誤の組み合わせとしてふさわしいものを、下の①～④から1つ選びなさい。

(あ) 陸奥国の豪族であった安倍氏は、東国武士を率いて攻め込んだ源義朝はろに滅ぼされた。

(い) 薩摩藩・長州藩などからなる新政府軍は、奥羽越列藩同盟の中心とみられていた会津藩を降伏させた。

- ① (あ) 正 (い) 正 ② (あ) 正 (い) 誤
 ③ (あ) 誤 (い) 正 ④ (あ) 誤 (い) 誤

問5. 下線5)に関する問題です。次の手紙は、歴史的に有名な人物のあいだでやりとりされたものです。この手紙の説明として、正しいものを下の①～④から1つ選びなさい。



- ① 空海が最澄に書き送った手紙
 ② 足利義政が千利休に書き送った手紙
 ③ 細川ガラシャが天草四郎に書き送った手紙
 ④ 福沢諭吉が大塩平八郎に書き送った手紙

問6. 下線6)に関する問題です。文中の(★)には、山形県の人々の暮らしと結びつきが深い河川の名前が入ります。この河川について、次のイ)ロ)の問題に答えなさい。

イ) (★)は「母なる川」と呼ばれ、山形盆地や庄内平野を流れています。昔から交通路や農業用水として利用されてきた、この河川の名前を漢字で答えなさい。

ロ) この河川の河口部には、江戸時代に港町として栄えた酒田市が位置しています。下の文章は、酒田市の地形図について、当時のようすを残している場所を説明したものです。読み取れることとして誤っているものを、文中の①～⑤から1つ選びなさい。



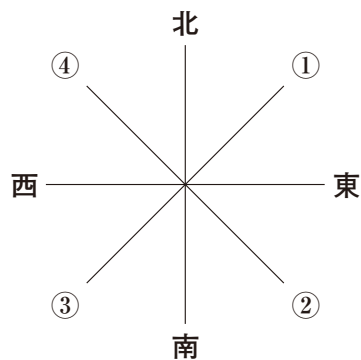
2万5千分の1電子地形図より作成 (2021年10月調整)

酒田市は、西廻り航路の拠点^{きょてん}として栄えた港町です。商人たちの活気が、まちにあふれていました。「北の国一番の米商人」と呼ばれた旧鐙屋^{あぶんや}のたてものが①市役所の近くにあります。また、旧鐙屋のたてものは②史跡^{しせき}として指定されています。寿町周辺に多く建てられた③寺院や、いたるところにある神社では、船乗りたちの安全祈願^{きがん}が行われていました。その寺院周辺には、当時のようすを伝える④博物館^{ひえく}があります。日枝神社の近くには、⑤記念碑^{きねんひ}が建てられており、この地を訪れた松尾芭蕉の文学碑も建てられました。

問7. 下線7)に関する問題です。右の写真は蔵王のスキー場で見られる光景です。樹氷は、同じ方向から運ばれてくる水滴（雪）が、アオモリトドマツという針葉樹林に凍りつき、固まることによってできる巨大な氷の塊です。このように樹氷の形には風の向きが関係します。



下の図のうち、冬の日本海側の気候に影響を及ぼす風の向きとして正しいものを、①～④から1つ選びなさい。



問8. 下線8)に関する問題です。地方自治について、日本国憲法第94条は「地方公共団体は、その財産を管理し、事務を処理し、及び行政を執行する権能を有し、法律の範囲内で（◆）を制定することができる」と定めています。（◆）にあてはまる言葉を漢字で書きなさい。

問9. 下線9)に関する問題です。次の切手に描かれているできごとを、古いものから並べた順番として正しいものを、下の①～④から1つ選びなさい。なお、切手の一部は加工されています。また(い)の切手にある平和条約は、サンフランシスコで結ばれたものです。

(あ)



(い)



(う)



(え)



① (い) → (え) → (う) → (あ)

② (い) → (あ) → (え) → (う)

③ (え) → (う) → (あ) → (い)

④ (え) → (あ) → (う) → (い)

問10. 下線10) に関する問題です。日本の裁判のしくみについて述べた文として、誤っているものを次の①～④から1つ選びなさい。

- ①被告^{ひこくにん}人は、自らの立場を守るために弁護人をつけることができる。
- ②地方裁判所での民事裁判では、裁判員制度が適用されることがある。
- ③第一^{しん}審の判決に不服があるときには、上級裁判所^{こうそ}へ控訴できる。
- ④被^ひ疑^ぎ者^{しゃ}には、自分の不利益になることは答えなくてよい黙秘^{もくひげん}権がある。

問11. 下線11) に関する問題です。昨年、「東京2020オリンピック・パラリンピック競技大会」の切手帳が発売されました。その表紙には、下のようなマークが描かれています。情報や注意をわかりやすく伝えるための、このようなマークのことを何といいますか。カタカナ6字で答えなさい。



問題は以上です。

