

2024年度 第2回 入学試験問題

社 会

(30分)

<注 意>

1. 開始のチャイムがなるまで、この冊子は開いてはいけません。
2. 問題は2ページから19ページに印刷されています。
3. 受験番号と氏名は解答用紙の定められたところに記入下さい。
4. 解答はすべて解答用紙の定められたところに記入下さい。

受 験 番 号			

問題は次のページから始まります。

I 次の文章を読み、あとの問いに答えなさい。

ここは中央大学附属中学校・高等学校前の古書店「ゆうせんどう小金井湧泉堂」。店主のしずか静おじさんは、近くに住む中附中1年生中太君のお母さんのおじ伯父さんにあたります。中太君は、お母さんに託されたたく晩御飯ばんごはんを持って湧泉堂へやって来ました。

中太：こんにちは、静おじさん。今日の夕飯は1) 長野で買ってきたおやきだよ。

静：信州を代表する郷土料理じゃな。具材にはのざわな野沢菜などの2) 野菜が使われていて、外はふっくらしている。おいしそうじゃ。

中太：コロナも落ち着いたから、家族旅行のお土産で買ってきたんだ。3) 善光寺にも行ったんだけど、どこも4) 外国人観光客が増えていたね。

静：善光寺にお参りしたのか。およそ1400年の歴史を誇るほこ寺院で、全国的に知られておる。1707年に再建された本堂は、江戸中期を代表する建築として、国宝に指定されているんじゃ。

中太：そうなんだね！ 5) 源頼朝も善光寺に来たことがあるみたいだよ。近くに石橋があって、彼の乗っていた馬ひづめの蹄がそこにはさまってしまったみたい。



静：よく調べておるのう。さすが、歴史好きの中太じゃ。

中太：夏の宿題の自由研究で調べていてね。もっと長野の歴史を教えてよ。

静：よろしい。長野は、旧石器時代や縄文時代の遺跡いせきが数多くあることでも知られている。6) ナウマンゾウの化石は見てきたかのう？

中太：授業で聞いたけど、見ることはできなかったな。昔は日本列島が大陸と陸続きだったから、今の長野のあたりまで動物が移動してきたんだよね。

静：そのとおりじゃ。石器の材料となる黒曜石が長野でもさいくつ採掘されている。日本で採れた黒曜石は、海を渡って大陸にも運ばれているぞ。

中太：そのときから7) 外国との交流もあったんだね。長野は昔、「信濃」と呼ばれていたと聞いたことがあるけど、いつごろからそう呼ばれたの？

静：およそ8世紀ごろだといわれておる。千曲川流域の屋代遺跡やしろには、「信濃」と書かれた木簡が見つかっておるぞ。

中太：木簡は、8) 税として納められた品に付けられたんだよね。何が税として運ばれたのかな。

静：稲や特産品が都に運ばれたんじゃない。なかでも麻布は特産品で、正倉院には信濃産の布で作られた服が残っておるぞ。11世紀前半には、あの藤原道長が信濃の布を使用していたことも有名じゃ。

中太：知らないことばかりで、びっくり。でも戦国から9) 江戸時代ならまかせて。武田信玄と上杉謙信が対戦した川中島の合戦でしょ。関ヶ原の戦いのあとには、中山道などの街道が整備されたみたい。

静：よく調べておる。10) 長野は山や谷が多いが、江戸時代中期以降、馬を利用した交通と運輸が発達して、商品の流通がしだいに盛んになったんじゃない。近代に入ると養蚕や製糸業が発達するぞ。

中太：糸を吐き出す蚕の幼虫は、お蚕さまと呼ばれて大切に育てられたんだよね。今でも養蚕が盛んなの？

静：11) 高度経済成長期になると、機械産業を中心とする製造業が盛んになったんじゃない。

中太：そうなんだね。でも、急激に工業化や開発が進むと公害や12) 環境破壊が問題になりそう。反発はなかったのかな？

静：工場だけではなく、別荘やゴルフ場がたくさん建設された。それに対して、長野出身の新田次郎は『霧の子孫たち』という小説で警告を発しておる。13) 住民の要望で、今は自然保護条例も制定されておるぞ。

中太：豊かな自然を守ることは、大切だもんね。小説も読んで、長野の歴史と自然に注目して、自由研究を仕上げてみるよ。

静：良い心がけじゃ。その調子で中附中でいろんなことを学ぶんじゃぞ。わしは、もらった晩ごはんをいただきます。

中太：はい！ また晩ごはんを持ってくるね。

問1. 下線1)に関する問題です。長野県について述べた文として、ふさわしくないものを次の①～④から1つ選びなさい。

- ①都道府県別平均標高が最も高く、この県に水源をもつ信濃川と天竜川は太平洋に注いでいる。
- ②信州サーモンや信州大王イワナなどのブランド魚が有名で、サケ・マス類の養殖が盛んである。
- ③隣り合う県の数が多く、富山県や新潟県、群馬県など8つの県と接している。
- ④果樹の栽培が盛んで、りんご・ぶどう・もも・あんずの生産量は日本有数である。

問2. 下線2)に関する問題です。下の表は、おやきの具となる、かぼちゃ・レタス・だいこん・なすの収穫量(2020年)について、全国4位までの都道府県を示したものです。「かぼちゃ」にあてはまるものを次の①～④から1つ選びなさい。

	①	②	③	④
1位	高知県	千葉県	長野県	北海道
2位	熊本県	北海道	茨城県	鹿児島県
3位	群馬県	青森県	群馬県	長野県
4位	茨城県	鹿児島県	長崎県	茨城県

矢野恒太記念会『データでみる県勢 2022年度版』より作成

問3. 下線3)に関する問題です。次のイ)ロ)の問いに答えなさい。

イ) 善光寺の歴史が記された『善光寺縁起』には、厩戸皇子（聖徳太子）が登場します。厩戸皇子について述べた文として、ふさわしいものを次の①～④から1つ選びなさい。

- ①推古天皇の摂政となり、蘇我稲目と協力してヤマト政権を支えた。
- ②個人の能力よりも家柄いえがらを重んじ、役人を登用する冠位十二階を定めた。
- ③小野妹子に国書を持たせ、隋の皇帝であった光武帝のもとに派遣はけんした。
- ④「和を以て貴たつとしとなし」から始まる、十七条の憲法を制定した。

ロ) 善光寺は、天台宗・浄土宗の両宗派によって運営されています。それぞれの宗派の教えを日本で広めた人物として、正しい組み合わせを次の①～④から1つ選びなさい。



- ①天台宗－空海 浄土宗－法然
- ②天台宗－空海 浄土宗－親鸞
- ③天台宗－最澄 浄土宗－法然
- ④天台宗－最澄 浄土宗－親鸞

問4. 下線4)に関する問題です。近年、新型コロナウイルス感染症かんせんしょうへの対策がゆるめられるなどして、日本を訪れる外国人観光客の「(◆) 需要じゅうよう」が拡大しています。(◆) にあてはまる言葉を、カタカナ6文字で答えなさい。

問5. 下線5)に関する問題です。源頼朝について述べた文(あ)・(い)の内容について、正・誤の組み合わせとしてふさわしいものを、下の①～④から1つ選びなさい。

- (あ) 平治の乱で平清盛によって源義朝が倒され、息子の源頼朝は伊豆に流されたが、のちに兵を挙げて平氏と戦った。
- (い) 源頼朝は弟の義経を捕らえることを口実(と)に、莊園や公領ごとに守護を、国ごとに地頭をおくことを朝廷に認めさせた。

- ① (あ) 正 (い) 正 ② (あ) 正 (い) 誤
③ (あ) 誤 (い) 正 ④ (あ) 誤 (い) 誤

問6. 下線6)に関する問題です。長野県では、ナウマンゾウの牙(きば)とオオツノジカの角の化石が並んで発見されており、その形から「月と星」とも呼ばれています。この化石が発掘された湖の名前を、漢字で答えなさい。



問7. 下線7)に関する問題です。日本と外国の交流の歴史について述べた文として、ふさわしくないものを次の①～④から1つ選びなさい。

- ① 倭には100余りの国があり、楽浪郡に定期的に使者を送っていたと、『漢書』地理志に記されている。
- ② 平氏が大輪田泊での貿易を奨励(しょうれい)したため、明から銅銭や陶磁器が輸入され、日本からは金や刀剣などが輸出された。
- ③ フビライ・ハン(フビライハン)は日本に使節を送り、モンゴル帝国にしたがうように要求したが、鎌倉幕府はこれを拒否(きよひ)した。
- ④ 徳川家康は商人や大名などに朱印状をあたえて貿易を奨励したため、多くの船が東南アジアに進出した。

問8. 下線8)に関する問題です。税に関する次のイ)ロ)の問いに答えなさい。

イ) 次の文章は、古代の税制度について説明したものです。空らん(あ)～(う)に入る言葉の組み合わせとして、正しいものを下の①～④から1つ選びなさい。

6年ごとに戸籍^{こせき}を作成し、6歳^{さい}以上の男女に口分田^{あた}を与える(あ)を実施した。その代わりに、収穫量の3%をおさめる租、地方の特産物をおさめる(い)、10日間の労役または麻布をおさめる(う)などの税を農民に課した。

- | | | |
|---------------|-------|-------|
| ① (あ) 墾田永年私財法 | (い) 調 | (う) 庸 |
| ② (あ) 墾田永年私財法 | (い) 庸 | (う) 調 |
| ③ (あ) 班田収授法 | (い) 調 | (う) 庸 |
| ④ (あ) 班田収授法 | (い) 庸 | (う) 調 |

ロ) 現代の税には、国に納める国税と地方公共団体に納める地方税があります。このうち地方税にあたるものを、次の①～④から1つ選びなさい。

- | | | |
|--------|---|-----------------------|
| ①固定資産税 | - | 持っている土地や建物にかかる税 |
| ②法人税 | - | 会社が出した利益などにかかる税 |
| ③所得税 | - | 会社からもらう給料などにかかる税 |
| ④相続税 | - | 亡くなった人からもらい受けた財産にかかる税 |

問9. 下線9)に関する問題です。次の(あ)～(え)の文は、江戸時代の出来事について述べています。それらを年代が古い順に並べたものとして、正しいものを下の①～④から1つ選びなさい。

- (あ) 裁判の基準を設けるために、公事方御定書が定められた。
(い) 孔子を祀^{まつ}った湯島の聖堂が建てられ、そこに林家の私塾^{しじゆく}も移された。
(う) 天候不良や浅間山^{ふんか}の噴火により、天明のききんが起こった。
(え) 物価^{じやうしやう}上昇を防ぐため、株仲間の解散が命じられた。

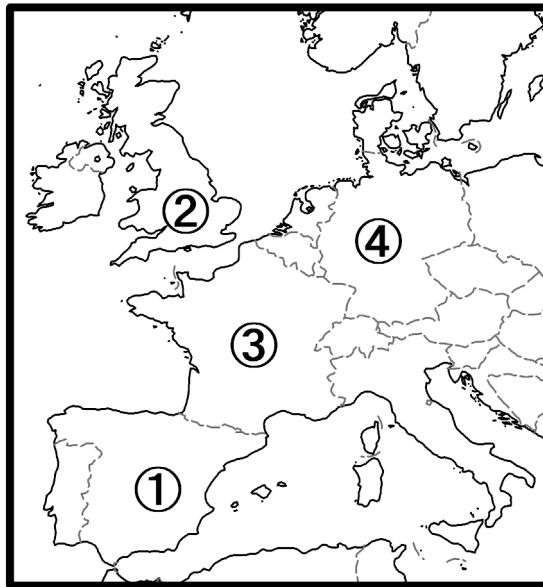
- ① (い) → (あ) → (う) → (え) ② (い) → (あ) → (え) → (う)
③ (う) → (い) → (あ) → (え) ④ (う) → (い) → (え) → (あ)

問10. 下線10)に関する問題です。本州中央部に位置する日本アルプスのうち、北アルプスにあたる山脈の名前を漢字で答えなさい。

問11. 下線11)に関する問題です。1955年から1973年までの高度経済成長期の出来事について述べた文として、誤っているものを次の①～④から1つ選びなさい。

- ① 東京－新大阪間を結ぶ東海道新幹線、東京－小牧間を結ぶ東名高速道路など、東京を起点とする交通網^{こうつうもう}が整えられた。
② 第1次オイルショックが起こり、国内ではトイレットペーパーの買い占め^しなどの現象がみられた。
③ 「三種の神器」と呼ばれた白黒テレビ・電気洗濯機^{せんたくき}・電気冷蔵庫が普及^{ふきゆう}して、人々の家庭生活が大きく変わった。
④ 東京や長野でオリンピックが開催^{かいさい}され、日本経済の復興と発展が世界に知られるようになった。

問 12. 下線 12) に関する問題です。2015 年に開催された国際会議では、温室効果ガスの排出削減に向けて努力することが約束されました。この会議が開かれた都市はどの国にありますか。地図上の①～④から 1 つ選びなさい。



問 13. 下線 13) に関する問題です。次の表は、地方自治における住民の直接請求権についてまとめたものです。空らん (あ) ～ (う) に入る言葉の組み合わせとして、正しいものを下の①～④から 1 つ選びなさい。

直接請求権の種類	必要な署名数	請求先
条例の制定・改廃を求める	有権者の (あ) 以上	(う)
議員の解職を求める	有権者の (い) 以上	選挙管理委員会

※ただし有権者数が 40 万人をこえる場合は、署名数の基準がゆるめられます。

- ① (あ) 3 分の 1 (い) 50 分の 1 (う) 首長
 ② (あ) 3 分の 1 (い) 50 分の 1 (う) 議長
 ③ (あ) 50 分の 1 (い) 3 分の 1 (う) 首長
 ④ (あ) 50 分の 1 (い) 3 分の 1 (う) 議長

Ⅱ 小学6年生の陽菜^{ひな}さんは、お父さんと横浜に遊びにきています。2人の会話を読み、あとの問いに答えなさい。

陽菜 : ここが 1) 山下公園なの? 海が目の前なんだ。あっ、船もあるわ。

お父さん: あれは氷川丸だよ。 2) 横浜からアメリカのシアトルまで生糸を運んだんだ。

陽菜 : カイコの繭^{まゆ}から作る糸よね。生糸をあんな大きな船で運んだの?

お父さん: そうだよ。せっかくだから、シルク博物館に行ってみない?

陽菜 : おもしろそうね。自由研究のテーマが決まっていなかったのよ。

お父さん: じゃあ、歩きながら生糸の話をしよう。養蚕は約5000年前に 3) 中国で始まり、シルクロードで西アジアやヨーロッパに広まったんだ。

陽菜 : そんな昔からカイコを育てていたの?

お父さん: そうだよ。日本では、4) 弥生時代の遺跡から絹織物が見つかったり、『魏志』倭人伝にも記録が残っていたりするから、そのころに伝わったとされているよ。

陽菜 : 稲作と同じころね。卑弥呼もカイコを見たのかな?

お父さん: 卑弥呼は、絹織物を中国の皇帝に送っていたよ。その後、国内の養蚕では必要な量が作れなかったし、質もよくなかったので、生糸や絹織物を中国から輸入していたんだ。

陽菜 : そういえば、5) 安土桃山時代や江戸時代の初めに、ポルトガルが中国産の生糸を日本に持ちこんでいたと教わったわ。

お父さん: そう。でもポルトガルはその後、江戸幕府に來航を禁止されたので、生糸の輸入が減ったんだ。

陽菜 : ひょっとして、それで国内でつくるようになったの?

お父さん: そうだよ。幸い、江戸時代は大きな戦争がなかったから、技術も進歩し、各地で生産されるようになった。そして江戸時代の終わりに、6) 日本がアメリカなどと条約を結んで貿易が始まった。ちょうどそのころ、ヨーロッパではカイコの病気が広がって、生糸が不足していたんだ。

陽菜 : それで、日本の生糸が輸出されるようになったのね。

お父さん: その通り。日本では生糸が輸出品目のトップになったんだ。

陽菜 : 生糸は輸入品から輸出品になったのね。

お父さん: 明治になると、政府は生糸を国の産業の中心にしようと、7) 群馬県に富岡製糸場をつくった。そこで製糸技術者を育て、生糸の生産技術を広めたんだ。

陽菜　：富岡製糸場は、生糸をつくるだけでなく、技術も広めていたのね。

お父さん：そう。そして8) 日本から海外に輸出される生糸のほとんどが、横浜からアメリカに向けて船で運ばれたんだ。

陽菜　：それで氷川丸もつくられたのね。

お父さん：そうなんだ。でも氷川丸が運航を始めた9) 1930年には、アメリカで日本の生糸が売れなくなったんだ。

陽菜　：日本の生糸農家も大変だったのね。

お父さん：その後、日本は戦争の時代に入った。生糸は輸出されなくなり、氷川丸は海軍の病院船として使われた。戦争が終わると、氷川丸は戦地にいた軍人や、10) 海外に移住していた日本人を日本に連れて帰った。

陽菜　：何か悲しいお話ね。

お父さん：日本の独立後に、氷川丸はシアトルまでの運航を再開した。このころには、日本からの留学生もアメリカに運んだ。留学生の中には、のちに11) ノーベル賞を受賞した人もいたんだ。

陽菜　：氷川丸は日本を支えた人々も運んだのね。

お父さん：いいこというね。でも、氷川丸はそれから間もない12) 1960年に引退した。そのころには、日本の生糸の輸出も減っていったんだ。

陽菜　：そうなの。じゃあ、日本ではもうカイコは育てられていないの？

お父さん：最近ではほんのわずかなんだ。でも新しい研究がされている。たとえば、カイコの成長の速さや栄養価が注目され、宇宙飛行士の食事にも活用される可能性があるんだ。13) 食糧^{しょくりょう}問題解決のために、14) 「昆虫食」^{こんちゅう}が注目されているしね。

陽菜　：昆虫食？ 虫を食べるの？ え～。

お父さん：はは。でも 15) 科学技術の進歩によって、私たちの課題を解決し、生活や未来の可能性を広げるために、こうした研究は大切なんだよ。

陽菜　：たしかにそうだけど、私には昆虫食はちょっと……。

お父さん：分かるよ。でも、カイコは世界中で食べられていたんだ。少しずつ知識を深めていけば、その意義や可能性も理解できるようになるさ。

陽菜　：じゃあ、昆虫食も少しは考えてみようかな。

お父さん：いいね。さあ、そろそろ博物館に着くよ。

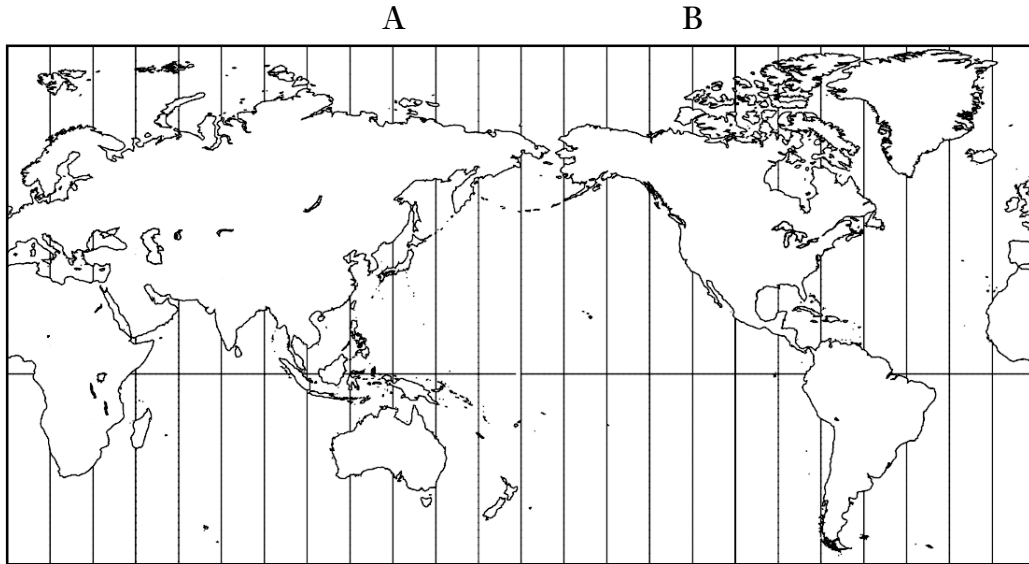
陽菜　：歩いたらお腹が空いたわ。カイコよりシュウマイが食べたい！

問1. 下線1)に関する問題です。山下公園は、関東大震災のがれきを利用して作られました。次の(あ)～(う)の文は、日本で起きた地震と関係のある出来事について述べています。それらを年代が古い順に並べたものとして、正しいものを下の①～④から1つ選びなさい。

- (あ) 文禄年間に起きた地震で倒壊した方広寺を再建する際に、鐘に刻まれた文字がきっかけとなり、戦いが始まった。
- (い) 嘉永年間に起きた地震による津波が下田に押しよせ、来航していたロシア使節の船も被害を受けた。
- (う) 宝永年間に起きた地震のあと、紀州藩の財政を立て直した藩主は、のちに幕府の将軍となった。

- ① (あ) → (う) → (い)
- ② (あ) → (い) → (う)
- ③ (う) → (あ) → (い)
- ④ (う) → (い) → (あ)

問2. 下線2)に関する問題です。横浜が2月4日午前10時のとき、シアトルは何月何日の何時となりますか。次の地図を参考にして、下の①~④から1つ選びなさい。なお、横浜はA、シアトルはBの経線を使って計算することとします。地図中の経線は15度おきに引かれています。



- ① 2月3日・午前5時
- ③ 2月4日・午前5時

- ② 2月3日・午後5時
- ④ 2月4日・午後5時

問3. 下線3)に関する問題です。次の写真はアジア各地でみられる^{いしやう}衣装です。
このうち、おもに西アジアでみられるものを①～④から1つ選びなさい。

①



②



③



④



問4. 下線4)に関する問題です。弥生時代の遺跡には、『魏志』倭人伝に記された邪馬台国との関係が議論されているものがあります。2023年の調査で、邪馬台国の時代の有力者のものと思われる石^{せつかん}棺墓が発見された遺跡を、次の①～④から1つ選びなさい。

- ①吉野ヶ里遺跡 ②纏向^{まきむく}遺跡 ③三内丸山遺跡 ④板付遺跡

問5. 下線5)に関する問題です。このころの日本とヨーロッパの交流についての説明として、誤っているものを次の①～④から1つ選びなさい。

- ①ポルトガル人によって鉄砲が伝えられると、その使用法や製造法が広まり、堺や国友などで大量に生産されるようになった。
②ポルトガルやスペインの宣教師が日本を訪れ、豊臣秀吉から長崎を領地として与えられ、キリスト教の布教をおこなった。
③大友宗麟らのキリシタン大名は、伊東マンショ、千々石ミゲルら4名の少年を使節としてローマに派遣^{はけん}した。
④九州^{ひょうちやく}に漂着したイギリス人のウィリアム・アダムズは、徳川家康の外交の相談役となった。

問6. 下線6)に関する問題です。次の文は、日本とアメリカの間で結ばれた条約の一部です（わかりやすく現代の日本語に直してあります）。この条約の名前を漢字で答えなさい。

- | |
|--|
| <p>一、すべての輸出入品について、別に定めた関税を、日本の役所におさめること。</p> <p>一、日本人に対して法をおかしたアメリカ人は、領事裁判所で取り調べ、アメリカの法律で罰^{ばつ}すること。</p> |
|--|

問7. 下線7)に関する問題です。次の説明は、群馬県にある、生糸と関係の深い市のものです。(★)にあてはまる市を、下の①～④から1つ選びなさい。

県の南東部にあり、『上毛かるた』(右写真、一部を修正)に「(★)は日本の機どころ」と詠まれているように、古くから生糸や絹織物が生産されていた。近年では、夏に気温が高いことでも知られるようになった。



- ①足利 ②熊谷 ③益子 ④桐生

問8. 下線8)に関する問題です。右の写真は、生糸商品に付けられたラベルで、浮世絵が描かれた会社のマーク(商標)は古くから使われています。

浮世絵について述べた次の文(あ)・(い)の内容について、正・誤の組み合わせとしてふさわしいものを、下の①～④から1つ選びなさい。



- (あ) 喜多川歌麿は、町人の風俗を題材とする浮世絵を制作し、『見返り美人図』などの作品を描いた。
(い) 十返舎一九の『東海道五十三次』には、江戸から京都までの東海道にある宿場町の風景などが描かれている。

- ① (あ) 正 (い) 正 ② (あ) 正 (い) 誤
③ (あ) 誤 (い) 正 ④ (あ) 誤 (い) 誤

問9. 下線9)に関する問題です。1930年に、日本から輸出された生糸がアメリカで売れなくなった原因を述べなさい。

問10. 下線10)に関する問題です。次の文章は、戦前に日本が勢力下においた地域に移住した人が、1945年の出来事について語ったものです。この人が移住した地域として正しいものを、下の①～④から1つ選びなさい。

八月八日の晩の十時から十二時まで不寝番ふしんばんやって起きてたんですよ。で、今でも思い出すけど、交代して寝床ねどこに入ってウトウトしかけた時に、俺おれの後の不寝番が「星が降ってくる」って。出てみたら照明弾しょうめいだんでもって昼間と同じように明るい。そのうちに機銃射撃きじゅうしゃげきが始まって、暗がりですらやってただけでも、まだその時はソ連だって分からなかった。

『証言 それぞれの記憶』内田辰男氏の証言より

- ①ビルマ ②満州 ③グアム ④台湾

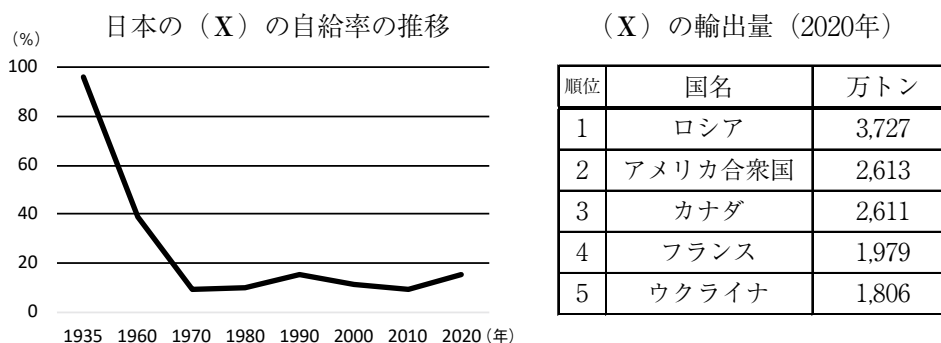
問11. 下線11)に関する問題です。日本のノーベル賞受賞者と、その業績の組み合わせとして誤っているものを、次の①～④から1つ選びなさい。

- ①湯川秀樹 - 中間子理論の提唱
②小柴昌俊 - 宇宙ニュートリノの観測
③大江健三郎 - iPS細胞の作製
④大村智 - イベルメクチンの開発

問 12. 下線 12) に関する問題です。戦後日本の外交について述べた文のうち、1960 年以前の出来事として正しいものを、次の①～④から 1 つ選びなさい。

- ①田中角栄首相が中華人民共和国を訪問し、国交を正常化した。
- ②佐藤栄作首相がニクソン米大統領と会談し、沖縄の返還^{へんかん}が実現した。
- ③鳩山一郎首相がソビエト連邦を訪問し、国交を回復した。
- ④小泉純一郎首相が北朝鮮を訪れ、国交正常化に向けた宣言に署名した。

問 13. 下線 13) に関する問題です。次の折れ線グラフは、日本における、ある穀物 (X) の自給率の推移を、また、右の表は (X) の輸出量の国別ランキングを示しています。(X) にあてはまる穀物として正しいものを、下の①～④から 1 つ選びなさい。



二宮書店『データブックオブ・ザ・ワールド2023』より作成

- ①米
- ②小麦
- ③大豆
- ④さつまいも

問 14. 下線 14) に関する問題です。次の文章は、日本で古くから食べられてきた昆虫についての説明です。この昆虫の名前をカタカナで答えなさい。

バッタの仲間、からだは緑色や茶色をしている。イネを食べることから、この名前がつけられた。江戸時代には大量に発生して、ききんの原因にもなった。食べるときには、佃煮つくだににされることが多い。

問 15. 下線 15) に関する問題です。日本の科学技術の現状について述べた文として、正しいものを次の①～④から 1 つ選びなさい。

- ① 蛍光灯けいこうとうや白熱電球に比べて価格の安い LED 照明が発明され、新築のビルやマンションには利用が義務づけられるようになった。
- ② 原子力を利用した発電所で大きな事故が起きたため、現在はすべての原子力発電所の運転が停止されている。
- ③ 「カーボンニュートラル」を実現するために、化石燃料を使用しない電気自動車が開発され、普及率ふきゅうが 60% を超えた。
- ④ 日本初の月面調査を目指す探査機などを搭載とうざいした、国産の H2A ロケットの打ち上げに成功した。

問題は以上です。

